

1회 주니어 TESAT 문제지

- ☐ 경제이론과 금융은 문항당 5점 또는 6점이고 상황추론판단은 문항당 7점입니다.
- ☐ 문제를 정확히 읽고 답안지의 해당번호에 ●표시 하세요. 시험 시간은 60분입니다.

< 경 제 >

1. 다음 어린이 A, B, C의 질문에 대한 답으로 적당한 것은?

- A : 오늘 저녁에 공부를 할까 아니면 게임을 할까?
- B : 세뱃돈으로 모자를 살까 아니면 저축을 할까?
- C : 왜 우리는 선택해야 할까?

- ① 기업이 원하므로
- ② 정부가 명령하므로
- ③ 자원이 무한히 존재하므로
- ④ 사람들이 원하는 게 한정되어 있으므로
- ⑤ 사람들이 원하는 게 자원에 비해 많으므로

2. 다음 내용을 통하여 알 수 있는 희소성의 조건은?

북극 지방에서는 난로가 희소성이 크지만, 열대 지방에서 난로는 희소성이 거의 없다.

- ① 자원의 많고 적음 ② 생산 능력의 정도
- ③ 재화의 종류나 수량 ④ 사람들의 소비 수준
- ⑤ 사람들의 필요나 욕구

3. 철희는 아르바이트 할 시간에 친구를 만나야 할지 고민하고 있다. 아르바이트를 할 경우 시간당 1만 원을 받을 수 있고, 친구를 만나면 2시간에 2만 원을 쓰게 된다. 2시간동안 친구를 만나는 선택을 할 때 기회비용은 얼마일까?

- ① 1만원 ② 2만원 ③ 3만원
- ④ 4만원 ⑤ 5만원

4. 다음은 합리적 선택에 관한 내용이다. 맞는 것을 모두 고르면?

- 가. 기회비용과 편익을 따져야 한다.
- 나. 기회비용이 같다면 편익이 큰 쪽을 선택한다.
- 다. 같은 편익이라면 기회비용이 적은 쪽을 선택한다.
- 라. 비용을 최소화하고 편익을 최대화하는 방향으로 선택한다.

- ① 가, 나 ② 가, 나, 다 ③ 가, 다, 라
- ④ 나, 다, 라 ⑤ 가, 나, 다, 라

5. 경제활동은 가게와 기업이 상호 작용하는 모습으로 나타낼 수 있다. 이에 대해 잘못 설명한 것은?

- ① 가게는 생산물 시장에서 재화나 서비스를 구입한다.
- ② 가게가 생산 요소를 제공한 대가로 받는 돈이 소득이다.
- ③ 가게는 항상 수요자 역할을 하고, 기업은 항상 공급자 역할을 한다.
- ④ 기업은 가게에게 임금, 이자, 지대를 지급한다.
- ⑤ 기업은 이윤을 내기 위해 재화와 서비스를 생산물 시장에 공급한다.

6. 시장의 자유경쟁으로 인해 나타나는 결과가 아닌 것은?

- ① 경기 안정 ② 가격 하락 ③ 서비스 개선
- ④ 제품의 다양성 ⑤ 제품 품질 향상

7. 어버이날에 부모님께 드릴 꽃을 사러 간 민수는 꽃값이 평소보다 비싸다는 것을 알게 되었다. 왜 꽃값이 올랐을까?

- ① 수요가 증가하므로
- ② 공급이 증가하므로
- ③ 거래량이 증가하므로
- ④ 거래량이 감소하므로
- ⑤ 수요와 공급이 모두 감소하므로

8. 화폐의 기능과 관련한 다음 사례와 그 기능이 적절하게 짝지어진 것은?

- A. 영희는 연말에 노트북PC를 구입하기 위해 매월 아르바이트해서 번 돈 중 절반을 예금하고 있다.
B. 최근 과일 값이 올라 사과는 개당 1,000원에 거래된다.

ㄱ. 지불 수단 ㄴ. 가치 척도 ㄷ. 가치 저장

- ① A-ㄱ, B-ㄴ ② A-ㄴ, B-ㄷ ③ A-ㄷ, B-ㄱ
④ A-ㄷ, B-ㄴ ⑤ A-ㄴ, B-ㄱ

9. 두 재화의 관계가 밑줄 친 사과와 배의 관계와 다른 것은?

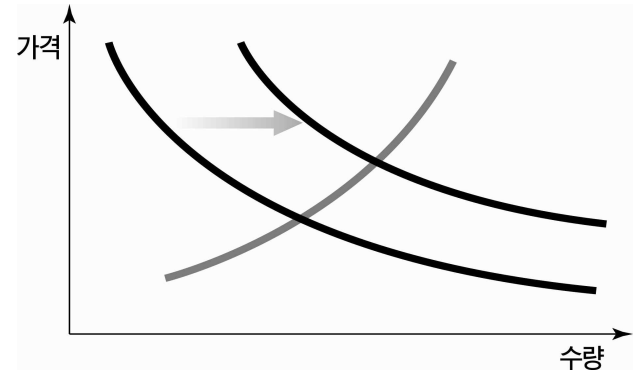
사과 가격이 올라가자 사과에 대한 수요는 감소하고, 대신 배에 대한 수요가 증가하였다.

- ① 쇠고기 값이 내리자 돼지고기 수요가 줄어들었다.
② 커피 값이 올라가자 녹차 수요가 증가하였다.
③ 사이다 값이 내리자 콜라 수요가 감소하였다.
④ 상추 값이 올라가자 깻잎 수요가 증가하였다.
⑤ 휘발유 값이 올라가자 자동차 수요가 감소하였다.

10. 가격 변화에 따른 생산자와 소비자의 행동변화를 예측한 것으로 옳지 않은 것은?

- ① 자동차의 판매 가격이 계속 하락하자 A 자동차회사는 생산량을 줄이기로 했다.
② 기름값이 올라가자 대연이 아버지는 보일러용 석유를 더 많이 구입하였다.
③ 청바지 가격이 올라가자 청바지 제조업자들이 청바지를 더 만들어 공급한다.
④ 닭갈비 가격이 올라 대연이네는 닭갈비보다 싼 돼지갈비를 더 자주 먹는다.
⑤ 중국산 마늘값이 국산 마늘값보다 더 싸지자 대연이 엄마는 중국산 마늘을 샀다.

11. 다음과 같이 수요곡선이 이동한 요인을 <보기>에서 모두 고르면?



<보 기>

- 가. 인구 수가 줄어든 경우
나. 개인의 소득이 높아진 경우
다. 보완할 수 있는 다른 재화의 가격이 오를 경우
라. 대체할 수 있는 다른 재화의 가격이 오를 경우

- ① 가, 나 ② 가, 다 ③ 나, 다
④ 나, 라 ⑤ 다, 라

12. 다음은 생산 활동에 관한 내용이다. 맞는 것을 모두 고르면?

- 가. 기업은 저마다 이윤을 얻기 위해 위험 부담을 무릅쓰고 기술개발에 힘쓴다.
나. 기업은 좋은 상품을 시장에 공급하려 하는데 이 과정에서 많은 사람들에게 일자리를 제공한다.
다. 근로자는 기업의 생산활동에 참가해 경제적 이익을 얻는다.
라. 기업가는 이윤을 얻기 위해 기업을 경영한다.

- ① 가, 나 ② 가, 나, 다
③ 가, 다, 라 ④ 나, 다, 라
⑤ 가, 나, 다, 라

13. 세금에 대한 설명으로 옳바르지 않은 것은?

- ① 세금은 크게 직접세와 간접세로 나눌 수 있다.
② 소득이 적은 사람은 간접세를 내지 않는다.
③ 소득수준에 따라 부과되는 세금의 비율이 다르다.

- ④ 원칙적으로 사람들이 버는 모든 소득에는 세금이 부과된다.
 ⑤ 물건을 살 때 물건 값에는 부가가치세나 소비세가 부과된다.

14. 다음은 시장에서 아이스크림을 사려는 양과 팔려는 양을 가격대별로 조사한 것이다. 이에 대한 설명으로 가장 적절한 것은?

가격	수요량	공급량
1,000원	10개	100개
500원	70개	70개
100원	100개	10개

- ① 시장 가격은 500원 수준에서 균형을 이룬다.
 ② 가격이 높으면 소비자 간의 경쟁으로 가격이 내려간다.
 ③ 가격이 낮으면 생산자 간의 경쟁으로 가격이 올라간다.
 ④ 가격이 100원일 때는 팔려는 양보다 사려는 양이 적어 팔려는 사람들간 경쟁이 심해진다.
 ⑤ 가격이 1,000원일 때는 팔려는 양보다 사려는 양이 많아 사려는 사람들간 경쟁이 심해진다.

15. 다음 글을 읽고 숙박 요금이 상승한 이유를 고르면?

월드컵 축구 본선을 한 달여 앞두고 프랑스 전역의 호텔 숙박 요금은 크게 올랐다. 월간지 '크 쇼시르'는 전국의 호텔 숙박 요금을 조사한 후 숙박요금 인상폭은 평균 37%에 달하며, 객실 수가 한정된 마르세유의 경우 값이 100%까지 상승했다고 보도했다.

- ① 수요가 증가하였기 때문이다.
 ② 수요가 감소하였기 때문이다.
 ③ 공급이 증가하였기 때문이다.
 ④ 공급이 감소하였기 때문이다.
 ⑤ 정부의 정책이 실패했기 때문이다.

16. 정부가 전기요금을 인상하기로 하였다. 이로 인해 예상되는 영향을 모두 고른 것은? 단 전기요금외 다른 조건은 변함이 없다고 가정한다.

- ㄱ. 전기 사용량이 증가한다.
 ㄴ. 전기 부족 현상이 완화된다.
 ㄷ. 전기 외에 다른 수단으로 난방을 하는 사람들이 많아진다.
 ㄹ. 전기 소비 효율이 높은 전자제품의 판매가 줄어든다.

- ① ㄱ, ㄴ ② ㄱ, ㄷ ③ ㄴ, ㄷ
 ④ ㄴ, ㄹ ⑤ ㄷ, ㄹ

17. 다음 사람들은 모두 일자리가 없다. 이들 가운데 실업자는?

- ① 살림을 하는 전업 주부
 ② 일할 생각이 없는 사람
 ③ 회사 면접을 하고 있는 사람
 ④ 대학 입시 공부를 하는 고등학생
 ⑤ 기술이 없어 일자리 찾는 걸 포기한 사람

18. 미국에서 10년간 살다가 귀국한 A씨가 한국에 돌아와보니 아파트, 자장면, 대학등록금, 목욕탕 요금 등 거의 모든 재화와 서비스의 가격이 2~3배 오른 것을 보고 깜짝 놀랐다. 이러한 현상을 가장 잘 나타내는 용어는?

- ① 경기 호황 ② 인플레이션 ③ 부동산투기
 ④ 국민소득 증대 ⑤ 실업률 상승

19. 1\$=1000원이었던 환율이 1\$=1200원으로 변동되었다. 이로 인해 나타날 수 있는 현상으로 볼 수 없는 것은?

- ① 중국산 상품 수입이 줄어든다.
 ② 한국에 들어오는 외국 관광객이 늘어난다.
 ③ 해외 수출되는 한국산 전자제품의 가격경쟁력이 떨어진다.
 ④ 해외 유학을 준비하던 A씨는 유학을 연기하는 것을 생각하고 있다.
 ⑤ 자동차 부품을 수출하는 B씨는 현지의 딜러로부터 가격 인하 요구를 받게 된다.

20. 다음 중 생산 활동에 해당되지 않는 것은?

- ① 교사가 학교에서 수업을 하고 있다.
 ② 농부가 채소밭에 거름을 주고 있다.
 ③ 재건축을 위해 아파트를 철거하고 있다.
 ④ 인기 가수가 전국 공연 투어를 다니고 있다.
 ⑤ 새 집으로 이사하기 위해 살던 집을 팔았다.


21. 정부가 시장에 개입할 사례로 적절치 않은 것은?

- ① 자장면 가격이 크게 오를 때
- ② 농약 공장에서 폐수가 흘러나올 때
- ③ 독과점 기업이 다른 회사의 시장 진입을 방해할 때
- ④ 초기 투자비용이 많이 들어가 민간 기업이 참여할 수 없을 때
- ⑤ 벤처회사가 정보를 제대로 공개하지 않아 소액 투자자의 피해가 우려될 때

22. 다음 중 국내총생산(GDP)을 늘리는 요인이 아닌 것은?

- ① 소비의 증가
- ② 투자의 증가
- ③ 수출의 증가
- ④ 정부 지출의 증가
- ⑤ 해외로의 공장 이전

23. 우리나라 돈과 미국 달러 사이의 환율이 그림처럼 계속 오르고 있다. 이에 대한 설명으로 옳은 것은? (단위 ; 달러당 원)



- ① 우리나라 돈의 가치가 오르고 있다.
- ② 우리나라 물건의 미국 수출에 도움이 된다.
- ③ 미국 물건이 우리나라에 더 많이 들어온다.
- ④ 우리가 미국을 여행할 때 비용이 줄어든다.
- ⑤ 1달러를 환전하는 데 필요한 우리나라 돈이 줄어든다.

24. 다음 중 경제적으로 볼 때 정부가 독점해도 좋은 사업으로 가장 바람직하지 않은 것은?

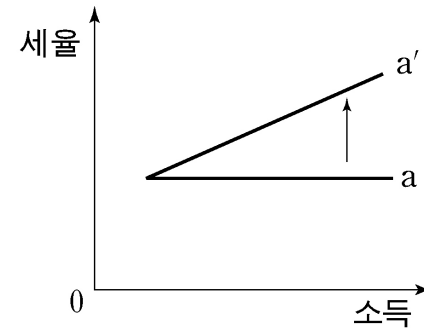
- ① 교복 ② 전화 ③ 철도 ④ 수도 ⑤ 전기

25. 다음 중 인플레이션으로 이득을 볼 가능성이 가장 큰 사람은?

- ① 실업자
- ② 수출업자
- ③ 월급을 받는 회사원

- ④ 연금으로 생활하는 할머니
- ⑤ 고정 이자율로 돈을 빌린 사람

26. A나라는 국민들의 소득세를 그림처럼 변경했다. 이러한 세율 변경의 효과를 잘 설명한 것은?



- ① 수출이 늘어난다.
- ② 일자리가 늘어난다.
- ③ 소득재분배가 촉진된다.
- ④ 경제성장률이 올라간다.
- ⑤ 국민들의 실질소득이 늘어난다.

<금 용>

27. 소득은 크게 근로소득, 재산소득, 사업소득 및 이전소득으로 나눌 수 있다. 다음 중 각 사례별로 소득의 원천을 연결한 것으로 잘못된 것은?

- ① 매월 받는 월급 - 근로소득
- ② 예금에 대한 이자 - 재산소득
- ③ 집을 빌려 주고 받는 집세 - 이전소득
- ④ 정부가 노인들에게 지급하는 연금 - 이전소득
- ⑤ 회사 사업이 잘되어 받는 상여금- 근로소득

28. 은행 예금과 주식 투자에 대한 다음의 설명 중 옳은 것은?

- ① 주식 투자는 은행 예금보다 투자위험은 낮고 수익률은 더 높다.
- ② 주식 투자는 은행 예금보다 더 안전한 투자 수단이다.
- ③ 어떤 회사의 주식을 사면 그 회사의 채권자가 된다.
- ④ 주식 투자를 하면 배당금과 이자를 다 받을 수 있다.
- ⑤ 우리나라에서 은행 예금은 법에서 정한 한도 내에서만 원리금이 보장된다.

29. 투자를 할 때 유동성은 중요한 기준이 된다. 다음 중 유동성이 가장 높은 자산은?

- ① 채권 ② 주식 ③ 현금
④ 토지 ⑤ 아파트

30. 지출은 소비 지출과 비소비 지출, 기타 지출로 이루어진다. 이 가운데 소비 지출로만 묶인 것은?

- ㉠ 식료품 ㉡ 대출이자 ㉢ 소득세
㉣ 기여금 ㉤ 저축 ㉥ 대출 상환
㉦ 건강보험료 ㉧ 의류 및 신발 ㉨ 교육비

- ① ㉠, ㉡, ㉢
② ㉠, ㉣, ㉥
③ ㉢, ㉤, ㉧
④ ㉠, ㉢, ㉨
⑤ ㉡, ㉣, ㉤

31. 다음 중 우리나라에서 의무적으로 가입하지 않아도 되는 보험은?

- ① 화재보험
② 건강보험
③ 고용보험
④ 국민연금
⑤ 산업재해보험

32. 주식에 대한 설명으로 옳지 않은 것은?

- ① 주식의 가격을 주가라고 한다.
② 주식을 갖고 있는 사람을 주주라고 부른다.
③ 주식회사는 주식을 발행해 자본금을 모은다.
④ 주식을 갖고 있는 사람은 주식을 발행한 회사로부터 이자를 받는다.
⑤ 주식은 회사의 일부를 소유하고 있다는 권리를 나타내는 증서이다.

33. 다음 일기에서 아빠가 가입해야 할 보험은?

2012년 2월 8일, 우리 가족은 오늘 새 집으로 이사 왔다. 너무 좋았다. 저녁을 먹다가 내가 이 집에 불이 나면 어떻게 하냐고 걱정하자, 아빠는 내일 보험회사에 가서 보험에 가입할 예정이라고 말씀하셨다.

- ① 생명보험
② 손해보험
③ 고용보험
④ 의료보험
⑤ 여행보험

34. 다음 중 요구불 예금에 대한 설명으로 옳은 것은?

- ① 수시입출금식 예금이라고도 한다.
② 보통 정기예금보다 이자율이 높다.
③ 은행이 요구할 때 예금하거나 인출한다.
④ 일정기간 매월 정기적으로 저축해야 한다.
⑤ 일정기간 이상 목돈을 은행에 예치해야 한다.

35. 주어진 자료로 본인이 원하는 최대의 만족을 위해 선택하는 것을 의사결정 과정이라고 할 때 개인 정보, 경제 환경 등을 알아보는 단계는 무엇인가?

- ① 문제 인식 단계 ② 정보 탐색 단계
③ 대안 평가 단계 ④ 평가 단계
⑤ 선택 단계

36. 생애 주기에 따른 재무설계를 할 때 ㉠에 들어갈 내용을 제대로 고른 것은?

생애 주기	해당 연령	주요 재무 목표
독신기/신혼기	20대	자신을 위한 투자, 결혼 자금, 주택 마련 자금, 보험 설계 등
가족 형성기	30대	출산 및 육아, 자녀교육 비용, 주택 마련자금, 보험 설계 등
노년기	66세 이상	㉠

- ㉠ 주택 마련 자금 ㉡ 부채관리
㉢ 자녀 결혼 자금 ㉣ 상속 설계

- ① ㉠, ㉡ ② ㉠, ㉢ ③ ㉡, ㉣
④ ㉡, ㉣ ⑤ ㉢, ㉣

37. 다음 중 금융회사에 포함되지 않는 것은?

- ① 은행 ② 증권회사 ③ 보험회사
④ 신용협동조합 ⑤ 한국조폐공사

38. 정부는 저축의 원금과 이자를 일정한 한도내에서 보호하는 예금자보호제도를 운영하고 있다. 다음 중 예금자보호제도의 적용을 받지 않는 금융상품은?

- ① 보통예금 ② 정기적금
③ 연금보험 ④ 변액보험
⑤ 어린이예금

39. 보기의 특징을 가진 지불 방법은 무엇인가?

- ㉠ 통장의 남은 예금 범위 안에서만 사용할 수 있다.
㉡ 과소비와 신용 불량자 발생을 억제할 수 있다.
㉢ 전국의 모든 신용카드 가맹점에서 24시간 사용할 수 있다.

- ① 현금 구매 ② 신용카드 ③ 체크카드
④ 선불카드 ⑤ 직불카드

40. 예금 이자를 계산하는 방법으로 단리법과 복리법이 있다. 다음 조건으로 예금했을 경우 단리법과 복리법에 따른 이자의 차이는?

•10만원을 이자율이 연 5%인 정기예금에 가입하여 2년동안 예금한 경우

- ① 100원 ② 150원 ③ 200원
④ 250원 ⑤ 300원

<상 황 추 론 · 판 단>

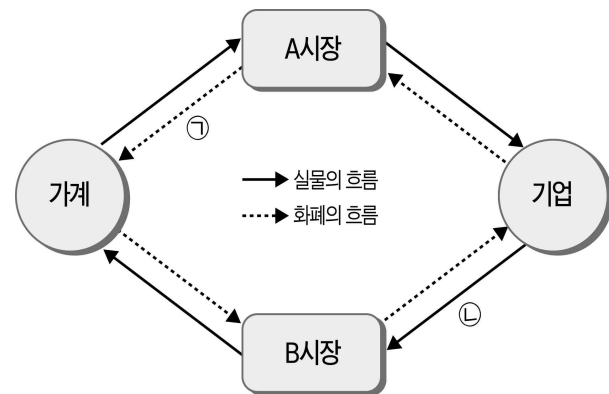
41. 다음은 경제 문제에 관한 개념을 정리한 것이다. 옳은 설명은?

- 경제 문제의 발생 원인
 - ㉠ 자원의 희소성
- 기본적인 경제 문제의 종류
 - ㉡ 무엇을 생산할 것인가?
 - ㉢ 어떻게 생산할 것인가?
 - ㉣ 누구에게 분배할 것인가?

- ① 자원이 절대적으로 적게 존재하는 경우에는 항상 ㉠이 발생한다.
② 공장의 자동화 설비 확충 여부를 결정하는 것은 ㉡에 해당한다.

- ③ ㉢은 생산 요소의 선택과 결합 방법에 대한 문제를 의미한다.
④ ㉣은 농부가 어떤 작물을 재배할 지 선택하는 문제를 들 수 있다.
⑤ 시장 경제 체제는 ㉡과 ㉢의 해결 기준으로 효율성보다 형평성을 우선한다.

42. 다음 그림은 민간 경제의 흐름을 나타낸 것이다. 이에 대한 설명으로 적절하지 않은 분석 및 추론은?



- ① 임금, 이자, 지대는 A시장에서 결정된다.
② ㉠은 생산에 참여한 대가를 받는 것을 의미한다.
③ 프로야구 선수의 경기, 의사의 진료 행위는 ㉡에 포함된다.
④ 가계는 A시장에서 상품을 구매하는 소비 행위를 담당한다.
⑤ 기업은 A시장에서 수요자, B시장에서 공급자 역할을 수행한다.

43. 다음 표는 연도별 ○○제품의 시장 가격과 거래량을 나타낸 것이다. 이러한 변화의 원인이 될 수 있는 것은?

연도 구분	2008년	2009년	2010년	2011년
시장가격(원)	1,000	1,200	1,500	1,600
거래량(만개)	150	130	110	100

- ① ○○제품의 생산 기술이 발달하였다.
② ○○제품 생산에 대해 정부가 보조금을 지급하였다.
③ ○○제품의 우수성에 대한 연구 결과가 발표되었다.
④ ○○제품과 대체 관계에 있는 △△제품의 가격이 상승하였다.
⑤ ○○제품의 생산에 필요한 원료 가격이 지속적으로 상승하였다.

44. 다음과 같은 상황이 동시에 발생할 경우, 과일 시장의 균형 가격과 균형 거래량의 변화를 바르게 짚지은 것은?

◦최근 장기간 이어진 장마로 인해 과일 생산과 판매를 포기하는 농가가 증가하였다.
◦비가 많이 내려 과일 맛이 떨어졌다고 인식하는 소비자들이 많아졌다.

	균형 가격	균형 거래량
①	상승	감소
②	상승	불분명
③	불분명	증가
④	불분명	감소
⑤	하락	불분명

45. 다음 신문 기사와 같은 경제 상황으로 인해 나타날 수 있는 현상으로 가장 적절한 것은?

아프리카 남부의 국가인 짐바브웨는 2008년 2억 3,100만%라는 경이적인 물가상승률로 세계를 놀라게 했다. 짐바브웨 중앙은행은 00이 14개 찍힌 100조 짐바브웨달러 지폐까지 찍어냈다. 100억 짐바브웨달러 내고 달걀을 3개 밖에 살 수 없는 짐바브웨 국민들의 상황을 가장 잘 표현하는 말은 아마도 '굶주리는 억만장자(starving billionaire)'일 것이다.
- OO신문, 2009년 9월 25일

- ① 부동산 소유자가 상대적으로 불리해진다.
- ② 시장에서 화폐의 교환매개 기능이 원활하게 작동된다.
- ③ 고정적으로 월급을 받는 사람의 실질 임금은 하락하게 된다.
- ④ 화폐의 구매력이 과도하게 높아지는 문제점이 초래된다.
- ⑤ 채무자에서 채권자로 소득이 재분배된다.

46. 다음은 환율에 관한 뉴스다. 빈 칸 ㉠, ㉡, ㉢에 들어갈 내용을 바르게 짚지은 것은?

◦앵커 : 경기 침체에 환율까지 (㉠)하면서 자녀를 해외 유학 보낸 부모들의 시름이 더 깊어졌습니다. ...

◦기자 : 자녀를 해외 유학 보낸 학부모들은 난감해하고 있습니다. 유럽 재정위기로 원화 가치가 최근 두 달 새 10% 넘게 (㉡)하면서, 학비며 생활비며 실제 부담액이 크게 (㉢)하였습니다.

◦유학생 학부모 : 과거에 한달에 500만원 정도 환전해서 보냈다면, 요즘은 50만 ~ 100만원을 더 보내야 하는 상황이에요. ...

- OO방송, 2011년 10월 4일

	㉠	㉡	㉢
①	상승	상승	증가
②	상승	하락	증가
③	하락	상승	감소
④	하락	하락	감소
⑤	하락	하락	증가

47. 우리나라와 미국 사이의 자유무역협정(FTA)이 국회 비준을 받았다. 두 나라가 자유무역을 할 경우 예상되는 영향으로 적절한 것은?

- ① 미국산 수입품의 가격 상승
- ② 국내에서 국산품 수요 증가
- ③ 미국 상품에 대한 관세 증가
- ④ 우리나라 시장에서의 경쟁 격화
- ⑤ 우리나라 상품의 미국 수출 감소

48. 아래의 신문기사 내용으로 미뤄볼 때 다음 중 나타날 가능성이 가장 적은 경제현상은?

• K팝에서 음식으로 한류 확산
• K팝에 빠졌던 동남아 사람들은 이제 미국 KFC보다는 한국식 닭튀김의 매력에 열광하고 있다.

- ① 미국 KFC 고객이 감소할 것이다.
- ② 우리나라에서 닭튀김 가격이 하락할 것이다.
- ③ 한국식 닭튀김 매장의 매출이 증가할 것이다.
- ④ 우리나라 상품의 동남아시아 수출이 증가할 것이다.
- ⑤ 우리나라로 여행을 오는 동남아시아 사람들이 증가할 것이다.

49. 신용에 대한 다음 설명 중 옳지 않은 것은?

- ① 신용이 나쁘면 과소비를 하게 된다.
- ② 신용이 나쁘면 돈을 빌릴 때 더 많은 이자를 내야 한다.
- ③ 신용이 나쁘면 거래에 소요되는 시간과 비용이 늘어난다.
- ④ 신용이 좋은 사람은 미래의 자산을 미리 앞당겨 사용할 수 있다.
- ⑤ 신용은 현재 돈이 없어도 필요한 물건을 구할 수 있는 능력이다.

50. 다음은 애덤 스미스의 《국부론》 중 일부이다. 필자의 주장을 가장 잘 설명한 것은?

“우리가 저녁식사를 할 수 있는 것은 푸줏간 주인이나 양조장 주인, 빵 제조업자들의 박애심 덕분이 아니다. 오히려 그들의 돈벌이에 대한 관심(이기심) 덕분이다.”

- ① 박애심은 불필요한 것이다.
- ② 항상 이기심을 경계해야 한다.
- ③ 개인적인 탐욕을 규제해야 한다.
- ④ 사람들의 이윤추구를 죄악시해서는 안된다.
- ⑤ 좋은 식사를 하기 위해선 푸줏간과 양조장, 제과점 주인을 지원해야 한다.

<끝> 수고하셨습니다